




# משימת שלושת הריבועים

נתונים שלושה ריבועים חופפים. כל ריבוע מסמן חפיסת שוקולד.



1 חלקו כל חפיסת שוקולד לארבעה חלקים שווים בעזרת שני קטעים המאונכים זה לזה (מסורטים על השקף המצורף).

2 מצאו כמה שיותר דרכים שונות לחלוקת חפיסת השוקולד לחלקים שווים שטח בעזרת הקטעים המאונכים.

